

This Question Paper consists of 28 questions [Section-A (20) + Section-B (4+4)] and 8 printed pages.
इस प्रश्न-पत्र में 28 प्रश्न [खण्ड 'अ'(20) + खण्ड 'ब'(4+4)] तथा 8 मुद्रित पृष्ठ हैं।

Roll No.

--	--	--	--	--	--	--	--	--	--	--

अनुक्रमांक

Code No. 65/ASS/3
कोड नं.

SET/सेट

A

GEOGRAPHY

भूगोल
(316)

Day and Date of Examination

(परीक्षा का दिन व दिनांक)

Signature of Invigilators

(निरीक्षकों के हस्ताक्षर)

1.

2.

General Instructions :

- 1 Candidate must write his/her Roll Number on the first page of the Question Paper.
- 2 Please check the Question Paper to verify that the total pages and total number of questions contained in the Question Paper are the same as those printed on the top of the first page. Also check to see that the questions are in sequential order.
- 3 Making any identification mark in the Answer-Book or writing Roll Number anywhere other than the specified places will lead to disqualification of the candidate.
- 4 Write your Question Paper Code No. 65/ASS/3, Set-**A** on the Answer-Book.
- 5 (a) The Question Paper is in English/Hindi medium only. However, if you wish, you can answer in any one of the languages listed below :
English, Hindi, Urdu, Punjabi, Bengali, Tamil, Malayalam, Kannada, Telugu, Marathi, Oriya, Gujarati, Konkani, Manipuri, Assamese, Nepali, Kashmiri, Sanskrit and Sindhi.
You are required to indicate the language you have chosen to answer in the box provided in the Answer-Book.
- (b) If you choose to write the answer in the language other than Hindi and English, the responsibility for any errors/mistakes in understanding the question will be yours only.

सामान्य अनुदेश :

- 1 परीक्षार्थी प्रश्न-पत्र के पहले पृष्ठ पर अपना अनुक्रमांक अवश्य लिखें।
- 2 कृपया प्रश्न-पत्र को जाँच लें कि प्रश्न-पत्र के कुल पृष्ठों तथा प्रश्नों की उतनी ही संख्या है जितनी प्रथम पृष्ठ के सबसे ऊपर छपी है। इस बात की जाँच भी कर लें कि प्रश्न क्रमिक रूप में हैं।
- 3 उत्तर-पुस्तिका में पहचान-चिह्न बनाने अथवा निर्दिष्ट स्थानों के अतिरिक्त कहीं भी अनुक्रमांक लिखने पर परीक्षार्थी को अयोग्य ठहराया जायेगा।
- 4 अपनी उत्तर-पुस्तिका पर प्रश्न-पत्र की कोड संख्या 65/ASS/3, सेट-**A** लिखें।
- 5 (क) प्रश्न-पत्र केवल हिंदी/अंग्रेजी माध्यम में है। फिर भी, यदि आप चाहें तो नीचे दी गई किसी एक भाषा में उत्तर दे सकते हैं :
अंग्रेजी, हिंदी, उर्दू, पंजाबी, बंगला, तमिल, मलयालम, कन्नड़, तेलुगु, मराठी, उड़िया, गुजराती, कोंकणी, मणिपुरी, असमिया, नेपाली, कश्मीरी, संस्कृत और सिंधी।
कृपया उत्तर-पुस्तिका में दिए गए बॉक्स में लिखें कि आप किस भाषा में उत्तर लिख रहे हैं।
- (ख) यदि आप हिंदी एवं अंग्रेजी के अतिरिक्त किसी अन्य भाषा में उत्तर लिखते हैं तो प्रश्न को समझने में होने वाली त्रुटियों / गलतियों की जिम्मेदारी केवल आपकी होगी।



GEOGRAPHY

भूगोल
(316)

Time : 3 Hours]

समय : 3 घण्टे]

[Maximum Marks : 80

[पूर्णांक : 80

- Note :**
- There are 24 questions in all.
 - All questions are **compulsory**.
 - Marks for each question are indicated against it.
 - Question Nos. 1 to 4 are very short answer questions carrying 1 mark each. Answer to these questions should not exceed 30 words each.
 - Question Nos. 5 to 9 and 21 and 22 are also very short answer questions carrying 2 marks each. Answers to these questions should not exceed 60 words each.
 - Question Nos. 10 to 13 and 23 and 24 are short answer questions carrying 4 marks each. Answers to these questions should not exceed 100 words each.
 - Question Nos. 14 to 18 are long answer questions carrying 6 marks each. Answer of these questions should not exceed 140 words each.
 - Question Nos. 19 and 20 are on filling *Outline Maps* of the *World* and *India* respectively. Each question contains 4 test items of very short answers of 1 mark each.
 - Use of templates or stencils for drawing outline maps in illustrating your answer is allowed.
 - Answers to Question Nos. 21 to 24 of Section - B should be given from any *one* of the options.
- निर्देश :**
- प्रश्नों की कुल संख्या 24 है।
 - सभी प्रश्न अनिवार्य हैं।
 - प्रत्येक प्रश्न के सामने उसके निर्धारित अंक दिए गए हैं।
 - प्रश्न संख्या 1 से 4 तक अतिलघु-उत्तरीय प्रश्न हैं और प्रत्येक प्रश्न का 1 अंक है। ऐसे प्रत्येक प्रश्न का उत्तर 30 शब्दों से अधिक का नहीं होना चाहिए।
 - प्रश्न संख्या 5 से 9 तक और 21 तथा 22 भी अतिलघु-उत्तरीय प्रश्न हैं और प्रत्येक प्रश्न के 2 अंक हैं। इनमें से प्रत्येक प्रश्न का उत्तर 60 शब्दों से अधिक का नहीं होना चाहिए।
 - प्रश्न संख्या 10 से 13 तक और 23 तथा 24 लघु-उत्तरीय प्रश्न हैं, जिनमें से प्रत्येक के 4 अंक हैं। इनमें से प्रत्येक प्रश्न का उत्तर 100 शब्दों से अधिक का नहीं होना चाहिए।
 - प्रश्न संख्या 14 से 18 तक दीर्घ-उत्तरीय प्रश्न हैं और प्रत्येक प्रश्न के 6 अंक हैं। ऐसे प्रत्येक प्रश्न का उत्तर 140 शब्दों से अधिक का नहीं होना चाहिए।
 - प्रश्न संख्या 19 और 20 क्रमशः संसार और भारत के रेखा मानचित्रों के भरने पर हैं। प्रत्येक प्रश्न में अति लघु-उत्तरों की 4 परीक्षण मदें 1-1 अंक की हैं।
 - अपने उत्तर को स्पष्ट करने के लिए रेखा मानचित्र बनाने के लिए साँचों या स्टेंसिलों के प्रयोग की अनुमति दी जाती है।
 - खण्ड-ब में प्रश्न संख्या 21 से 24 तक के उत्तर किसी एक विकल्प में से दीजिए।



SECTION – A

खण्ड – अ

- 1 Why Red Sea has high salinity? Give one reason. 1
लाल सागर में लवणता अधिक क्यों पाई जाती है? एक कारण दीजिए।
- 2 Name any two states of India where subsistence agriculture is $\frac{1}{2} \times 2 = 1$
practised.
भारत के किन्हीं दो राज्यों के नाम लिखिए जहाँ जीवन निर्वाहन कृषि की जाती है।
- 3 Name the ocean which has the largest number of trenches. 1
उस महासागर का नाम बताइए जिसमें सबसे अधिक गर्त हैं।
- 4 Write the names of terminal stations of North-South corridor. $\frac{1}{2} \times 2 = 1$
उत्तर-दक्षिण गलियारे के अंतिम स्टेशनों के नाम लिखिए।
- 5 Define a glacier. Name any two landforms created by glacial erosion. 1+1=2
हिमानी को परिभाषित कीजिए। हिमानी अपरदन द्वारा निर्मित किन्हीं दो स्थलाकृतियों के नाम बताइए।
- 6 Define density of population. What is the density of population of India 1+1=2
according to census 2001?
जनसंख्या घनत्व की परिभाषा लिखिए। 2001 की जनगणना के अनुसार भारत का जनसंख्या घनत्व कितना है?
- 7 "The continental shelves are of great importance to man." Support this 1×2=2
statement by giving any two arguments.
"महाद्वीपीय निम्न तट मनुष्य के लिए अत्यधिक महत्वपूर्ण है।" कोई दो तर्क देकर इस कथन की पुष्टि कीजिए।
- 8 Explain any two important characteristics of Alpine vegetation found in 1×2=2
India.
भारत में पायी जाने वाली अल्पाइन वनस्पति की कोई दो महत्वपूर्ण विशेषताएँ स्पष्ट कीजिए।
- 9 Differentiate between Human Development and Economic Development. 2
मानव विकास और आर्थिक विकास में अन्तर स्पष्ट कीजिए।



- 10 "Geography is an interdisciplinary subject." Examine this statement with $1 \times 4 = 4$ four suitable examples.
 "भूगोल एक अन्तरा-अनुशासनिक विषय है।" चार उदाहरण देकर इस कथन का परीक्षण कीजिए।
- 11 Describe natural vegetation and animal life of the temperate grasslands $1 \times 4 = 4$ biome. Give any four points.
 शीतोष्ण कटिबन्धीय घासभूमि जीवोम की प्राकृतिक वनस्पति एवं प्राणी जीवन का वर्णन कीजिए।
 कोई चार बिन्दु दीजिए।
- 12 Why is atmosphere important for all living beings on the earth? $1 \times 4 = 4$
 Explain any four points of importance of atmosphere.
 पृथ्वी पर सभी जीवों के लिए वायुमंडल क्यों महत्वपूर्ण है? वायुमंडल के महत्व के किन्हीं चार बिन्दुओं की व्याख्या कीजिए।
- 13 Suggest any four measures to improve the sex ratio in India. $1 \times 4 = 4$
 भारत में लिंग अनुपात को सुधारने के लिए कोई चार उपाय सुझाइए।
- 14 Classify the plateaus on the basis of their geographical location and $2+2+2=6$ structure of rocks. Write one characteristic and one example of each.
 भौगोलिक स्थिति एवं शैलों की संरचना के आधार पर पठारों का वर्गीकरण कीजिए।
 प्रत्येक की एक-एक विशेषता और एक-एक उदाहरण लिखिए।
- 15 Describe any six characteristics of Global Warming. $1 \times 6 = 6$
 भूमंडलीय तापन की किन्हीं छः विशेषताओं का वर्णन कीजिए।
- 16 Explain any six measures to control landslides and to mitigate their $1 \times 6 = 6$ impact.
 भूस्खलन रोकने तथा उसके दुष्प्रभावों को कम करने के लिए किन्हीं छः उपायों की व्याख्या कीजिए।
- 17 Describe any six methods of soil conservation. $1 \times 6 = 6$
 मृदा संरक्षण की किन्हीं छः विधियों का वर्णन कीजिए।
- 18 Evaluate the role of Indian Railways in the economic development of $1 \times 6 = 6$ the country. Give any six points.
 देश के आर्थिक विकास में भारतीय रेलवे की भूमिका का मूल्यांकन कीजिए। कोई छः बिन्दु दीजिए।

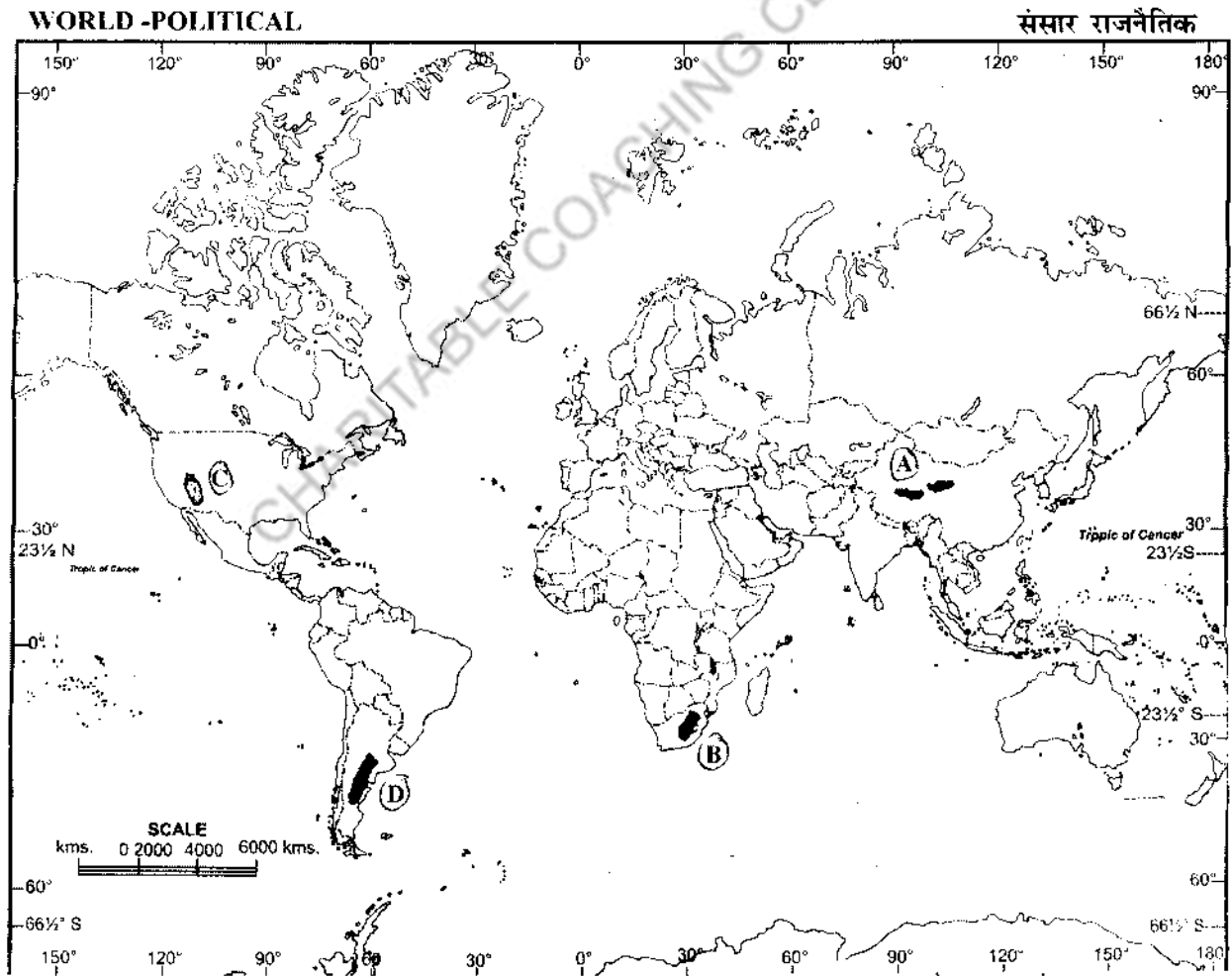


19 The following four geographical features are marked by (A), (B), (C) and (D) on the given Political outline map of the world. Identify these features with the help of the following information and write their correct names in your answer-book. 1×4=4

- | | |
|--------------------|------------------|
| (A) Mountain Range | (B) Lava Plateau |
| (C) Desert | (D) Grasslands |

दिए गए संसार के राजनैतिक रेखा मानचित्र में चार भौगोलिक लक्षणों को (A), (B), (C) और (D) द्वारा दिखाया गया है। इन लक्षणों को नीचे दी गई जानकारी की सहायता से पहचानिए और उनके सही नाम अपनी उत्तर-पुस्तिका में लिखिए :

- | | |
|------------------|----------------|
| (A) पर्वत श्रेणी | (B) लावा पठार |
| (C) मरुस्थल | (D) घासभूमियाँ |



20 The following four geographical features are marked by (A), (B), (C) and (D) on the given Political outline map of India. Identify these features with the help of the following information and write their correct names in your answer-book. 1×4=4

(A) Mountain Range

(B) River

(C) Type of soil

(D) Petroleum producing areas

दिए गए भारत के राजनैतिक रेखा मानचित्र में चार भौगोलिक लक्षणों को (A), (B), (C) और (D) द्वारा दिखाया गया है। इन लक्षणों को नीचे दी गई जानकारी की सहायता से पहचानिए और उनके सही नाम अपनी उत्तर-पुस्तिका में लिखिए :

(A) पर्वत श्रेणी

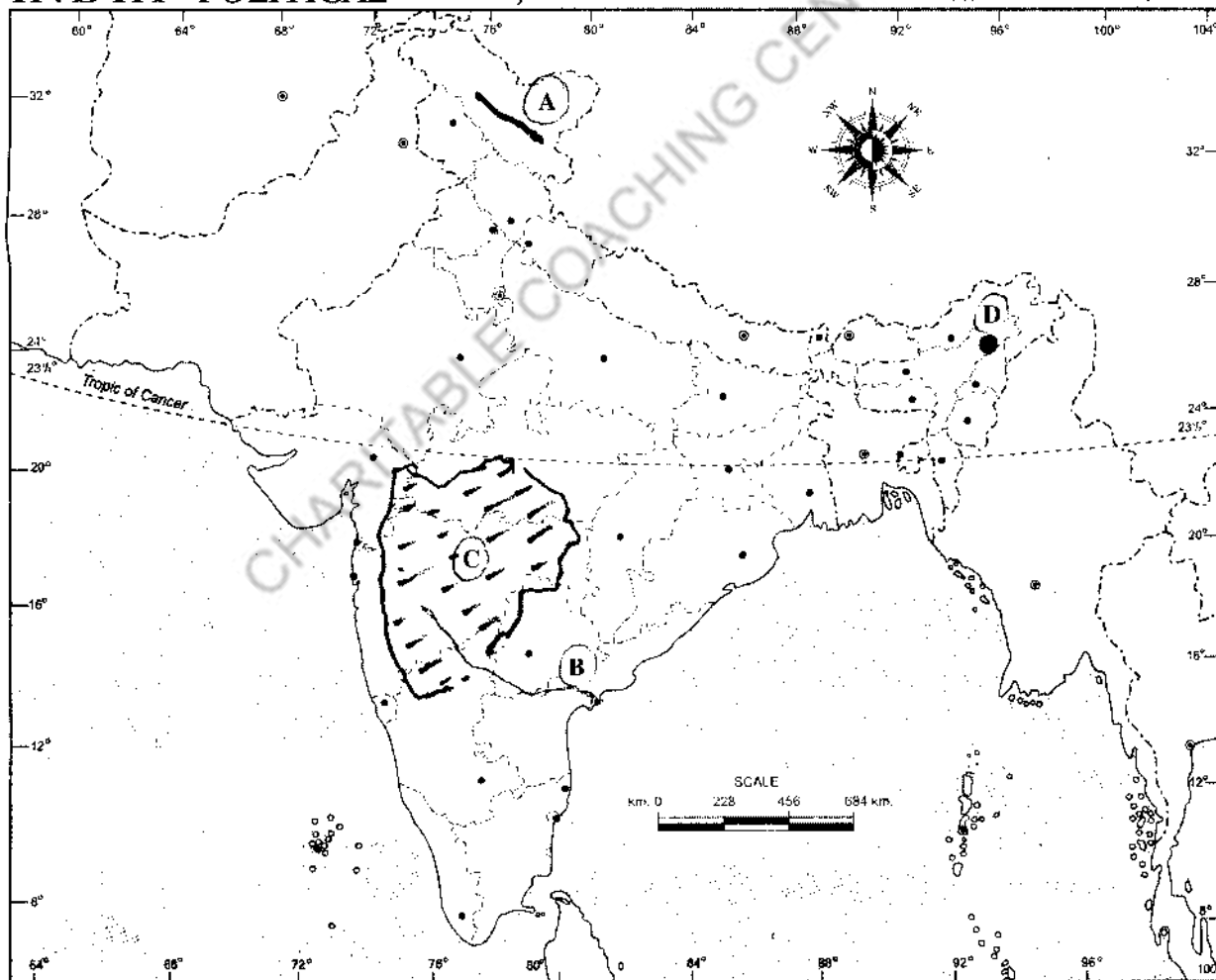
(B) नदी

(C) मृदा का प्रकार

(D) पेट्रोलियम उत्पादक क्षेत्र

INDIA - POLITICAL AND ADJACENT COUNTRIES

भारत—राजनैतिक और पड़ोसी देश



SECTION – B

खण्ड – ब

OPTION – I

विकल्प – I

(Local Area Planning)

(स्थानीय क्षेत्र नियोजन)

- 21 Mention four tools that help in data collection. $\frac{1}{2} \times 4 = 2$

आंकड़ों को एकत्रित करने में सहायक चार उपकरणों का उल्लेख कीजिए।

- 22 Explain any two merits of median. $1 \times 2 = 2$

मध्यिका के किन्हीं दो गुणों को स्पष्ट कीजिए।

- 23 Describe in brief amenities and social facilities available in Akbarpur village of Banda district. $1 \times 4 = 4$

बांदा जिले के अकबरपुर गाँव में उपलब्ध सुख साधन और सामाजिक सुविधाओं का संक्षेप में वर्णन कीजिए।

- 24 Suggest four measures for the slum areas development in different cities of India. $1 \times 4 = 4$

भारत के विभिन्न नगरों में मलिन बस्ती क्षेत्रों के विकास के लिए चार उपाय सुझाइए।



OPTION – II

विकल्प – II

(Geography of Tourism in India)

(भारत में पर्यटन भूगोल)

- 21** Mention any four factors responsible for regional climatic variations in India. $\frac{1}{2} \times 4 = 2$

भारत में प्रादेशिक जलवायविक भिन्नताओं के लिए उत्तरदायी किन्हीं चार कारकों का उल्लेख कीजिए।

- 22** Explain any two facilities provided by motels to the tourists. $1 \times 2 = 2$

मोटल्स द्वारा पर्यटकों को उपलब्ध कराने वाली किन्हीं दो सुविधाओं को स्पष्ट कीजिए।

- 23** How does tour operator help in promoting tourism? Give four points. $1 \times 4 = 4$

टूर ऑपरेटर पर्यटन को बढ़ावा देने में किस प्रकार सहायता करते हैं? चार बिन्दु दीजिए।

- 24** Explain any four effects of mass tourism on local economy in India. $1 \times 4 = 4$

भारत में जन पर्यटन द्वारा स्थानीय अर्थव्यवस्था पर पड़ने वाले किन्हीं चार प्रभावों की व्याख्या कीजिए।



This Question Paper consists of 28 questions [Section-A (20) + Section-B (4+4)] and 8 printed pages.
इस प्रश्न-पत्र में 28 प्रश्न [खण्ड 'अ'(20) + खण्ड 'ब'(4+4)] तथा 8 मुद्रित पृष्ठ हैं।

Roll No.

--	--	--	--	--	--	--	--	--	--	--

अनुक्रमांक

Code No. 65/ASS/3
कोड नं.

SET/सेट

B

GEOGRAPHY

भूगोल
(316)

Day and Date of Examination

(परीक्षा का दिन व दिनांक)

Signature of Invigilators

(निरीक्षकों के हस्ताक्षर)

1.

2.

General Instructions :

- 1 Candidate must write his/her Roll Number on the first page of the Question Paper.
- 2 Please check the Question Paper to verify that the total pages and total number of questions contained in the Question Paper are the same as those printed on the top of the first page. Also check to see that the questions are in sequential order.
- 3 Making any identification mark in the Answer-Book or writing Roll Number anywhere other than the specified places will lead to disqualification of the candidate.
- 4 Write your Question Paper Code No. 65/ASS/3, Set-**B** on the Answer-Book.
- 5 (a) The Question Paper is in English/Hindi medium only. However, if you wish, you can answer in any one of the languages listed below :
English, Hindi, Urdu, Punjabi, Bengali, Tamil, Malayalam, Kannada, Telugu, Marathi, Oriya, Gujarati, Konkani, Manipuri, Assamese, Nepali, Kashmiri, Sanskrit and Sindhi.
You are required to indicate the language you have chosen to answer in the box provided in the Answer-Book.
- (b) If you choose to write the answer in the language other than Hindi and English, the responsibility for any errors/mistakes in understanding the question will be yours only.

सामान्य अनुदेश :

- 1 परीक्षार्थी प्रश्न-पत्र के पहले पृष्ठ पर अपना अनुक्रमांक अवश्य लिखें।
- 2 कृपया प्रश्न-पत्र को जाँच लें कि प्रश्न-पत्र के कुल पृष्ठों तथा प्रश्नों की उतनी ही संख्या है जितनी प्रथम पृष्ठ के सबसे ऊपर छपी है। इस बात की जाँच भी कर लें कि प्रश्न क्रमिक रूप में हैं।
- 3 उत्तर-पुस्तिका में पहचान-चिह्न बनाने अथवा निर्दिष्ट स्थानों के अतिरिक्त कहीं भी अनुक्रमांक लिखने पर परीक्षार्थी को अयोग्य ठहराया जायेगा।
- 4 अपनी उत्तर-पुस्तिका पर प्रश्न-पत्र की कोड संख्या 65/ASS/3, सेट-**B** लिखें।
- 5 (क) प्रश्न-पत्र केवल हिंदी/अंग्रेजी माध्यम में है। फिर भी, यदि आप चाहें तो नीचे दी गई किसी एक भाषा में उत्तर दे सकते हैं :
अंग्रेजी, हिंदी, उर्दू, पंजाबी, बंगला, तमिल, मलयालम, कन्नड़, तेलुगु, मराठी, उड़िया, गुजराती, कोंकणी, मणिपुरी, असमिया, नेपाली, कश्मीरी, संस्कृत और सिंधी।
कृपया उत्तर-पुस्तिका में दिए गए बॉक्स में लिखें कि आप किस भाषा में उत्तर लिख रहे हैं।
(ख) यदि आप हिंदी एवं अंग्रेजी के अतिरिक्त किसी अन्य भाषा में उत्तर लिखते हैं तो प्रश्न को समझने में होने वाली त्रुटियों / गलतियों की जिम्मेदारी केवल आपकी होगी।



GEOGRAPHY

भूगोल
(316)

Time : 3 Hours]

समय : 3 घण्टे]

[Maximum Marks : 80

[पूर्णांक : 80

- Note :**
- There are 24 questions in all.
 - All questions are **compulsory**.
 - Marks for each question are indicated against it.
 - Question Nos. 1 to 4 are very short answer questions carrying 1 mark each. Answer to these questions should not exceed 30 words each.
 - Question Nos. 5 to 9 and 21 and 22 are also very short answer questions carrying 2 marks each. Answers to these questions should not exceed 60 words each.
 - Question Nos. 10 to 13 and 23 and 24 are short answer questions carrying 4 marks each. Answers to these questions should not exceed 100 words each.
 - Question Nos. 14 to 18 are long answer questions carrying 6 marks each. Answer of these questions should not exceed 140 words each.
 - Question Nos. 19 and 20 are on filling *Outline Maps* of the *World* and *India* respectively. Each question contains 4 test items of very short answers of 1 mark each.
 - Use of templates or stencils for drawing outline maps in illustrating your answer is allowed.
 - Answers to Question Nos. 21 to 24 of Section - B should be given from any *one* of the options.
- निर्देश :**
- प्रश्नों की कुल संख्या 24 है।
 - सभी प्रश्न अनिवार्य हैं।
 - प्रत्येक प्रश्न के सामने उसके निर्धारित अंक दिए गए हैं।
 - प्रश्न संख्या 1 से 4 तक अतिलघु-उत्तरीय प्रश्न हैं और प्रत्येक प्रश्न का 1 अंक है। ऐसे प्रत्येक प्रश्न का उत्तर 30 शब्दों से अधिक का नहीं होना चाहिए।
 - प्रश्न संख्या 5 से 9 तक और 21 तथा 22 भी अतिलघु-उत्तरीय प्रश्न हैं और प्रत्येक प्रश्न के 2 अंक हैं। इनमें से प्रत्येक प्रश्न का उत्तर 60 शब्दों से अधिक का नहीं होना चाहिए।
 - प्रश्न संख्या 10 से 13 तक और 23 तथा 24 लघु-उत्तरीय प्रश्न हैं, जिनमें से प्रत्येक के 4 अंक हैं। इनमें से प्रत्येक प्रश्न का उत्तर 100 शब्दों से अधिक का नहीं होना चाहिए।
 - प्रश्न संख्या 14 से 18 तक दीर्घ-उत्तरीय प्रश्न हैं और प्रत्येक प्रश्न के 6 अंक हैं। ऐसे प्रत्येक प्रश्न का उत्तर 140 शब्दों से अधिक का नहीं होना चाहिए।
 - प्रश्न संख्या 19 और 20 क्रमशः संसार और भारत के रेखा मानचित्रों के भरने पर हैं। प्रत्येक प्रश्न में अति लघु-उत्तरों की 4 परीक्षण मदें 1-1 अंक की हैं।
 - अपने उत्तर को स्पष्ट करने के लिए रेखा मानचित्र बनाने के लिए साँचों या स्टेंसिलों के प्रयोग की अनुमति दी जाती है।
 - खण्ड-ब में प्रश्न संख्या 21 से 24 तक के उत्तर किसी एक विकल्प में से दीजिए।



SECTION – A

खण्ड – अ

- 1 Why is salinity low in the Baltic Sea? 1
बाल्टिक सागर में लवणता निम्न क्यों है?
- 2 Write the names of terminal stations of North-South corridor. $\frac{1}{2} \times 2 = 1$
उत्तर-दक्षिण गलियारे के अंतिम स्टेशनों के नाम लिखिए।
- 3 State the two main processes of heating the ocean waters. $\frac{1}{2} \times 2 = 1$
समुद्री जल तापन की दो प्रमुख प्रक्रियाएँ बताइए।
- 4 Name any two states of India where subsistence agriculture is practised. $\frac{1}{2} \times 2 = 1$
भारत के किन्हीं दो राज्यों के नाम लिखिए जहाँ जीवन निर्वाहन कृषि की जाती है।
- 5 Define the term 'gradation'. Mention two components of gradation. 1+1=2
'तल संतुलन' शब्द को परिभाषित कीजिए। तल संतुलन के दो घटकों का उल्लेख कीजिए।
- 6 Differentiate between Human Development and Economic Development. 2
मानव विकास और आर्थिक विकास में अन्तर स्पष्ट कीजिए।
- 7 Explain any two important characteristics of Alpine vegetation found in India. 1×2=2
भारत में पायी जाने वाली अल्पाइन वनस्पति की कोई दो महत्वपूर्ण विशेषताएँ स्पष्ट कीजिए।
- 8 "The continental shelves are of great importance to man." Support this statement by giving any two arguments. 1×2=2
'महाद्वीपीय निम्न तट मनुष्य के लिए अत्यधिक महत्वपूर्ण है।' कोई दो तर्क देकर इस कथन की पुष्टि कीजिए।
- 9 Define density of population. What is the density of population of India according to census 2001? 1+1=2
जनसंख्या घनत्व की परिभाषा लिखिए। 2001 की जनगणना के अनुसार भारत का जनसंख्या घनत्व कितना है?



- 10 Distinguish between systematic approach and regional approach in geography in four points. 1×4=4
 क्रमबद्ध उपागम और प्रादेशिक उपागम के बीच चार बिन्दुओं में अन्तर स्पष्ट कीजिए।
- 11 Suggest any four measures to improve the sex ratio in India. 1×4=4
 भारत में लिंग अनुपात को सुधारने के लिए कोई चार उपाय सुझाइए।
- 12 Describe natural vegetation and animal life of the temperate grasslands biome. Give any four points. 1×4=4
 शीतोष्ण कटिबन्धीय घासभूमि जीवोम की प्राकृतिक वनस्पति एवं प्राणी जीवन का वर्णन कीजिए।
 कोई चार बिन्दु दीजिए।
- 13 Why is atmosphere important for all living beings on the earth? 1×4=4
 Explain any four points of importance of atmosphere.
 पृथ्वी पर सभी जीवों के लिए वायुमंडल क्यों महत्वपूर्ण है? वायुमंडल के महत्व के किन्हीं चार बिन्दुओं की व्याख्या कीजिए।
- 14 Classify mountains on the basis of their mode of formation. 1½×4=6
 Explain each type of mountain with one example.
 निर्माण क्रिया के आधार पर पर्वतों का वर्गीकरण कीजिए। प्रत्येक प्रकार के पर्वत की व्याख्या एक उदाहरण सहित कीजिए।
- 15 Evaluate the role of Indian Railways in the economic development of the country. Give any six points. 1×6=6
 देश के आर्थिक विकास में भारतीय रेलवे की भूमिका का मूल्यांकन कीजिए। कोई छः बिन्दु दीजिए।
- 16 What is meant by flood? Explain any five causes of floods. 1+5=6
 बाढ़ से क्या अभिप्राय है? बाढ़ आने के किन्हीं पाँच कारणों की व्याख्या कीजिए।
- 17 Describe any six characteristics of Global Warming. 1×6=6
 भूमंडलीय तापन की किन्हीं छः विशेषताओं का वर्णन कीजिए।
- 18 Describe any six methods of soil conservation. 1×6=6
 मृदा संरक्षण की किन्हीं छः विधियों का वर्णन कीजिए।

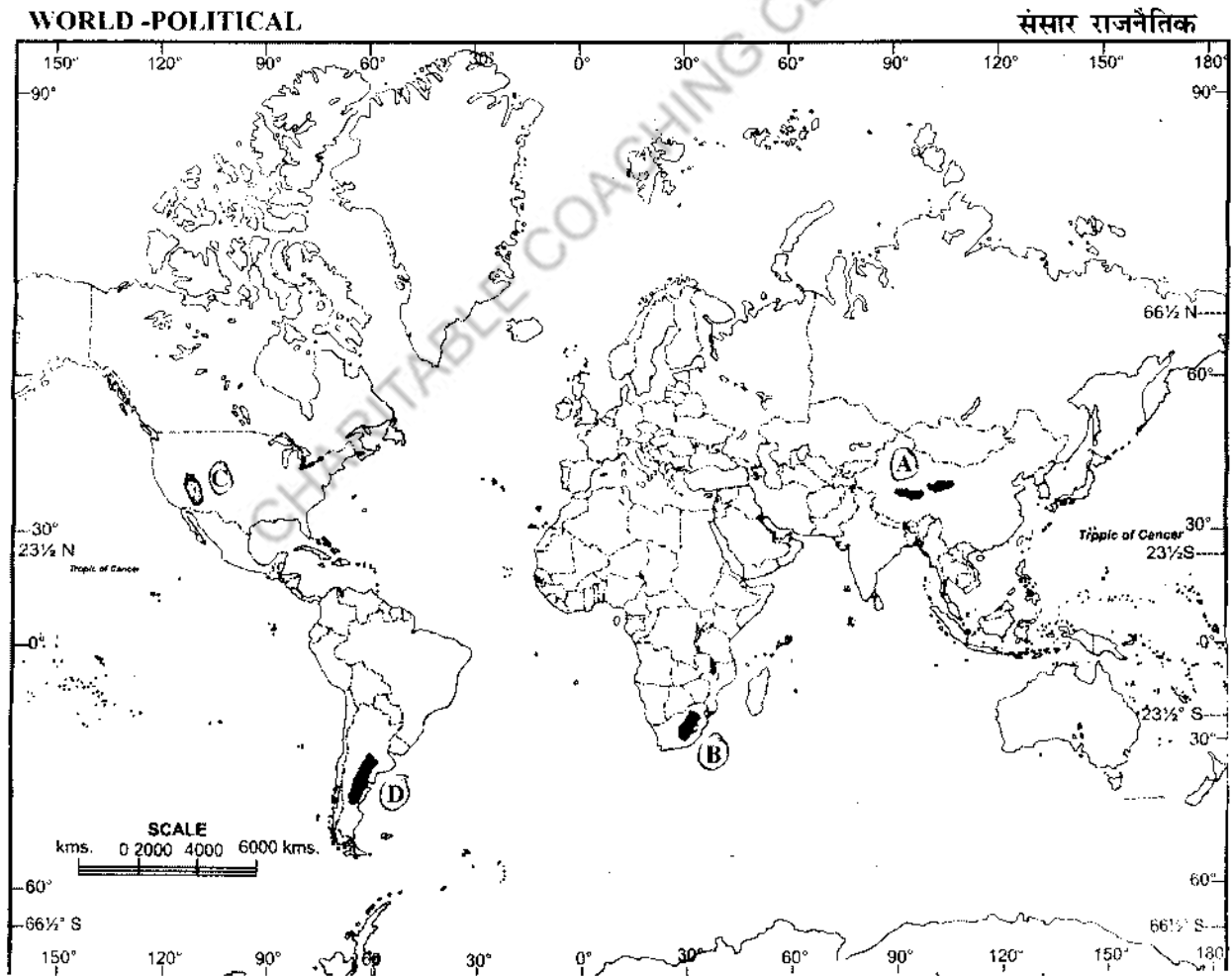


19 The following four geographical features are marked by (A), (B), (C) and (D) on the given Political outline map of the world. Identify these features with the help of the following information and write their correct names in your answer-book. 1×4=4

- | | |
|--------------------|------------------|
| (A) Mountain Range | (B) Lava Plateau |
| (C) Desert | (D) Grasslands |

दिए गए संसार के राजनैतिक रेखा मानचित्र में चार भौगोलिक लक्षणों को (A), (B), (C) और (D) द्वारा दिखाया गया है। इन लक्षणों को नीचे दी गई जानकारी की सहायता से पहचानिए और उनके सही नाम अपनी उत्तर-पुस्तिका में लिखिए :

- | | |
|------------------|----------------|
| (A) पर्वत श्रेणी | (B) लावा पठार |
| (C) मरुस्थल | (D) घासभूमियाँ |



20 The following four geographical features are marked by (A), (B), (C) and (D) on the given Political outline map of India. Identify these features with the help of the following information and write their correct names in your answer-book. 1×4=4

(A) Mountain Range

(B) River

(C) Type of soil

(D) Petroleum producing areas

दिए गए भारत के राजनैतिक रेखा मानचित्र में चार भौगोलिक लक्षणों को (A), (B), (C) और (D) द्वारा दिखाया गया है। इन लक्षणों को नीचे दी गई जानकारी की सहायता से पहचानिए और उनके सही नाम अपनी उत्तर-पुस्तिका में लिखिए :

(A) पर्वत श्रेणी

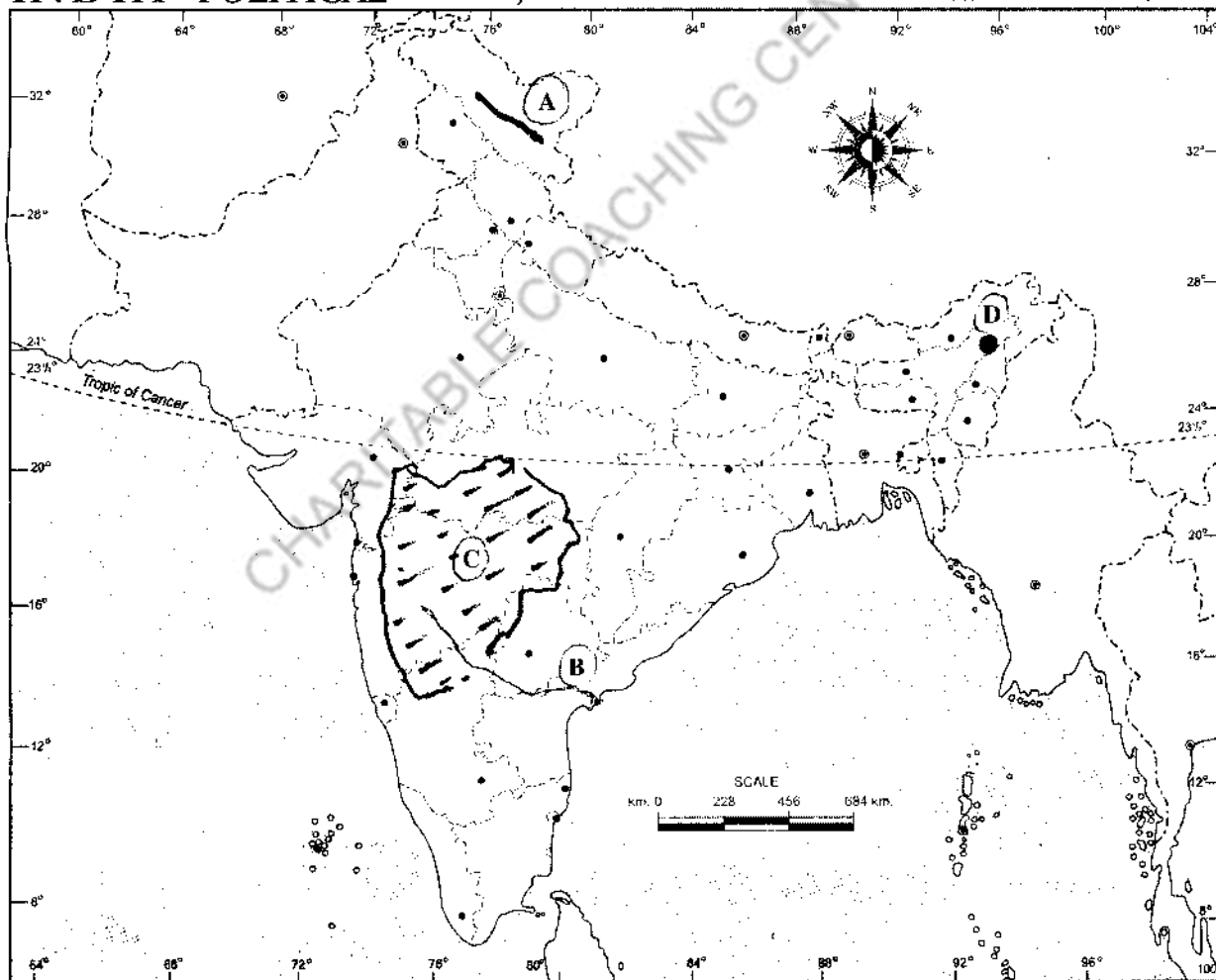
(B) नदी

(C) मृदा का प्रकार

(D) पेट्रोलियम उत्पादक क्षेत्र

INDIA - POLITICAL AND ADJACENT COUNTRIES

भारत—राजनैतिक और पड़ोसी देश



SECTION – B

खण्ड – ब

OPTION – I

विकल्प – I

(Local Area Planning)

(स्थानीय क्षेत्र नियोजन)

21 Explain any two merits of median. **1×2=2**

मध्यिका के किन्हीं दो गुणों को स्पष्ट कीजिए।

22 Mention four tools that help in data collection. **$\frac{1}{2} \times 4 = 2$**

आंकड़ों को एकत्रित करने में सहायक चार उपकरणों का उल्लेख कीजिए।

23 Suggest four measures for the slum areas development in different cities **1×4=4**
of India.

भारत के विभिन्न नगरों में मलिन बस्ती क्षेत्रों के विकास के लिए चार उपाय सुझाइए।

24 Describe in brief amenities and social facilities available in Akbarpur **1×4=4**
village of Banda district.

बांदा जिले के अकबरपुर गाँव में उपलब्ध सुख साधन और सामाजिक सुविधाओं का संक्षेप में वर्णन कीजिए।



OPTION – II

विकल्प – II

(Geography of Tourism in India)

(भारत में पर्यटन भूगोल)

- 21 Explain any two facilities provided by motels to the tourists. $1 \times 2 = 2$

मोटल्स द्वारा पर्यटकों को उपलब्ध कराने वाली किन्हीं दो सुविधाओं को स्पष्ट कीजिए।

- 22 Mention any four factors responsible for regional climatic variations in India. $\frac{1}{2} \times 4 = 2$

भारत में प्रादेशिक जलवायविक भिन्नताओं के लिए उत्तरदायी किन्हीं चार कारकों का उल्लेख कीजिए।

- 23 Explain any four effects of mass tourism on local economy in India. $1 \times 4 = 4$

भारत में जन पर्यटन द्वारा स्थानीय अर्थव्यवस्था पर पड़ने वाले किन्हीं चार प्रभावों की व्याख्या कीजिए।

- 24 How does tour operator help in promoting tourism? Give four points. $1 \times 4 = 4$

टूर ऑपरेटर पर्यटन को बढ़ावा देने में किस प्रकार सहायता करते हैं? चार बिन्दु दीजिए।



This Question Paper consists of 28 questions [Section-A (20) + Section-B (4+4)] and 8 printed pages.
इस प्रश्न-पत्र में 28 प्रश्न [खण्ड 'अ'(20) + खण्ड 'ब'(4+4)] तथा 8 मुद्रित पृष्ठ हैं।

Roll No.

--	--	--	--	--	--	--	--	--	--	--	--

अनुक्रमांक

Code No. 65/ASS/3
कोड नं.

SET/सेट

C

GEOGRAPHY

भूगोल
(316)

Day and Date of Examination

(परीक्षा का दिन व दिनांक)

Signature of Invigilators

(निरीक्षकों के हस्ताक्षर)

1.

2.

General Instructions :

- 1 Candidate must write his/her Roll Number on the first page of the Question Paper.
- 2 Please check the Question Paper to verify that the total pages and total number of questions contained in the Question Paper are the same as those printed on the top of the first page. Also check to see that the questions are in sequential order.
- 3 Making any identification mark in the Answer-Book or writing Roll Number anywhere other than the specified places will lead to disqualification of the candidate.
- 4 Write your Question Paper Code No. 65/ASS/3, Set-**C** on the Answer-Book.
- 5 (a) The Question Paper is in English/Hindi medium only. However, if you wish, you can answer in any one of the languages listed below :
English, Hindi, Urdu, Punjabi, Bengali, Tamil, Malayalam, Kannada, Telugu, Marathi, Oriya, Gujarati, Konkani, Manipuri, Assamese, Nepali, Kashmiri, Sanskrit and Sindhi.
You are required to indicate the language you have chosen to answer in the box provided in the Answer-Book.
- (b) If you choose to write the answer in the language other than Hindi and English, the responsibility for any errors/mistakes in understanding the question will be yours only.

सामान्य अनुदेश :

- 1 परीक्षार्थी प्रश्न-पत्र के पहले पृष्ठ पर अपना अनुक्रमांक अवश्य लिखें।
- 2 कृपया प्रश्न-पत्र को जाँच लें कि प्रश्न-पत्र के कुल पृष्ठों तथा प्रश्नों की उतनी ही संख्या है जितनी प्रथम पृष्ठ के सबसे ऊपर छपी है। इस बात की जाँच भी कर लें कि प्रश्न क्रमिक रूप में हैं।
- 3 उत्तर-पुस्तिका में पहचान-चिह्न बनाने अथवा निर्दिष्ट स्थानों के अतिरिक्त कहीं भी अनुक्रमांक लिखने पर परीक्षार्थी को अयोग्य ठहराया जायेगा।
- 4 अपनी उत्तर-पुस्तिका पर प्रश्न-पत्र की कोड संख्या 65/ASS/3, सेट-**C** लिखें।
- 5 (क) प्रश्न-पत्र केवल हिंदी/अंग्रेजी माध्यम में है। फिर भी, यदि आप चाहें तो नीचे दी गई किसी एक भाषा में उत्तर दे सकते हैं :
अंग्रेजी, हिंदी, उर्दू, पंजाबी, बंगला, तमिल, मलयालम, कन्नड़, तेलुगु, मराठी, उड़िया, गुजराती, कोंकणी, मणिपुरी, असमिया, नेपाली, कश्मीरी, संस्कृत और सिंधी।
कृपया उत्तर-पुस्तिका में दिए गए बॉक्स में लिखें कि आप किस भाषा में उत्तर लिख रहे हैं।
- (ख) यदि आप हिंदी एवं अंग्रेजी के अतिरिक्त किसी अन्य भाषा में उत्तर लिखते हैं तो प्रश्न को समझने में होने वाली त्रुटियों / गलतियों की जिम्मेदारी केवल आपकी होगी।



GEOGRAPHY

भूगोल
(316)

Time : 3 Hours]

समय : 3 घण्टे]

[Maximum Marks : 80

[पूर्णांक : 80

- Note :**
- There are 24 questions in all.
 - All questions are **compulsory**.
 - Marks for each question are indicated against it.
 - Question Nos. 1 to 4 are very short answer questions carrying 1 mark each. Answer to these questions should not exceed 30 words each.
 - Question Nos. 5 to 9 and 21 and 22 are also very short answer questions carrying 2 marks each. Answers to these questions should not exceed 60 words each.
 - Question Nos. 10 to 13 and 23 and 24 are short answer questions carrying 4 marks each. Answers to these questions should not exceed 100 words each.
 - Question Nos. 14 to 18 are long answer questions carrying 6 marks each. Answer of these questions should not exceed 140 words each.
 - Question Nos. 19 and 20 are on filling *Outline Maps* of the *World* and *India* respectively. Each question contains 4 test items of very short answers of 1 mark each.
 - Use of templates or stencils for drawing outline maps in illustrating your answer is allowed.
 - Answers to Question Nos. 21 to 24 of Section - B should be given from any *one* of the options.
- निर्देश :**
- प्रश्नों की कुल संख्या 24 है।
 - सभी प्रश्न अनिवार्य हैं।
 - प्रत्येक प्रश्न के सामने उसके निर्धारित अंक दिए गए हैं।
 - प्रश्न संख्या 1 से 4 तक अतिलघु-उत्तरीय प्रश्न हैं और प्रत्येक प्रश्न का 1 अंक है। ऐसे प्रत्येक प्रश्न का उत्तर 30 शब्दों से अधिक का नहीं होना चाहिए।
 - प्रश्न संख्या 5 से 9 तक और 21 तथा 22 भी अतिलघु-उत्तरीय प्रश्न हैं और प्रत्येक प्रश्न के 2 अंक हैं। इनमें से प्रत्येक प्रश्न का उत्तर 60 शब्दों से अधिक का नहीं होना चाहिए।
 - प्रश्न संख्या 10 से 13 तक और 23 तथा 24 लघु-उत्तरीय प्रश्न हैं, जिनमें से प्रत्येक के 4 अंक हैं। इनमें से प्रत्येक प्रश्न का उत्तर 100 शब्दों से अधिक का नहीं होना चाहिए।
 - प्रश्न संख्या 14 से 18 तक दीर्घ-उत्तरीय प्रश्न हैं और प्रत्येक प्रश्न के 6 अंक हैं। ऐसे प्रत्येक प्रश्न का उत्तर 140 शब्दों से अधिक का नहीं होना चाहिए।
 - प्रश्न संख्या 19 और 20 क्रमशः संसार और भारत के रेखा मानचित्रों के भरने पर हैं। प्रत्येक प्रश्न में अति लघु-उत्तरों की 4 परीक्षण मदें 1-1 अंक की हैं।
 - अपने उत्तर को स्पष्ट करने के लिए रेखा मानचित्र बनाने के लिए साँचों या स्टेंसिलों के प्रयोग की अनुमति दी जाती है।
 - खण्ड-ब में प्रश्न संख्या 21 से 24 तक के उत्तर किसी एक विकल्प में से दीजिए।



SECTION – A

खण्ड – अ

- 1 Name the ocean which has the largest number of trenches. 1
उस महासागर का नाम बताइए जिसमें सबसे अधिक गर्त हैं।
- 2 Name any two states of India where shifting agriculture is practised. $\frac{1}{2} \times 2 = 1$
भारत के किन्हीं दो राज्यों के नाम लिखिए जहाँ स्थानांतरित कृषि की जाती है।
- 3 Why Red Sea has high salinity? Give one reason. 1
लाल सागर में लवणता अधिक क्यों पाई जाती है? एक कारण दीजिए।
- 4 Which two cities are joined by the East-West corridor? $\frac{1}{2} \times 2 = 1$
पूर्व-पश्चिम गलियारे द्वारा कौन से दो शहर जोड़े जाते हैं?
- 5 State the meaning of 'Focus' and 'Epicentre'. 1+1=2
'भूकम्प केन्द्र' और 'अधिकेन्द्र' का अर्थ बताइए।
- 6 Explain any two important characteristics of Alpine vegetation found in India. 1×2=2
भारत में पायी जाने वाली अल्पाइन वनस्पति की कोई दो महत्वपूर्ण विशेषताएँ स्पष्ट कीजिए।
- 7 Define density of population. What is the density of population of India according to census 2001? 1+1=2
जनसंख्या घनत्व की परिभाषा लिखिए। 2001 की जनगणना के अनुसार भारत का जनसंख्या घनत्व कितना है?
- 8 Differentiate between Human Development and Economic Development. 2
मानव विकास और आर्थिक विकास में अन्तर स्पष्ट कीजिए।
- 9 "The continental shelves are of great importance to man." Support this statement by giving any two arguments. 1×2=2
"महाद्वीपीय निम्न तट मनुष्य के लिए अत्यधिक महत्वपूर्ण है।" कोई दो तर्क देकर इस कथन की पुष्टि कीजिए।



- 10** Why is atmosphere important for all living beings on the earth? **1×4=4**
 Explain any four points of importance of atmosphere.
 पृथ्वी पर सभी जीवों के लिए वायुमंडल क्यों महत्वपूर्ण है? वायुमंडल के महत्व के किन्हीं चार बिन्दुओं की व्याख्या कीजिए।
- 11** Describe any four characteristics of natural vegetation of the Evergreen Rain forest biome. **1×4=4**
 सदाहरित वर्षावन जीवोम की प्राकृतिक वनस्पति की किन्हीं चार विशेषताओं का वर्णन कीजिए।
- 12** Suggest any four measures to improve the sex ratio in India. **1×4=4**
 भारत में लिंग अनुपात को सुधारने के लिए कोई चार उपाय सुझाइए।
- 13** "Geography is an interdisciplinary subject." Examine this statement with four suitable examples. **1×4=4**
 "भूगोल एक अन्तरा-अनुशासनिक विषय है।" चार उदाहरण देकर इस कथन का परीक्षण कीजिए।
- 14** Explain any six measures to control landslides and to mitigate their impact. **1×6=6**
 भूस्खलन रोकने तथा उसके दुष्प्रभावों को कम करने के लिए किन्हीं छः उपायों की व्याख्या कीजिए।
- 15** Define precipitation. Describe four forms of precipitation. **2+4=6**
 वर्षण को परिभाषित कीजिए। वर्षण के चार रूपों का वर्णन कीजिए।
- 16** Describe any six methods of soil conservation. **1×6=6**
 मृदा संरक्षण की किन्हीं छः विधियों का वर्णन कीजिए।
- 17** Classify the plateaus on the basis of their geographical location and structure of rocks. Write one characteristic and one example of each. **2+2+2=6**
 भौगोलिक स्थिति एवं शैलों की संरचना के आधार पर पठारों का वर्गीकरण कीजिए। प्रत्येक की एक-एक विशेषता और एक-एक उदाहरण लिखिए।
- 18** Analyse any six steps taken by the government to increase fish production and its trade in India. **1×6=6**
 भारत में मत्स्य उत्पादन तथा इसके व्यापार को बढ़ाने के लिए सरकार द्वारा किए गए किन्हीं छः प्रयासों की विवेचना कीजिए।

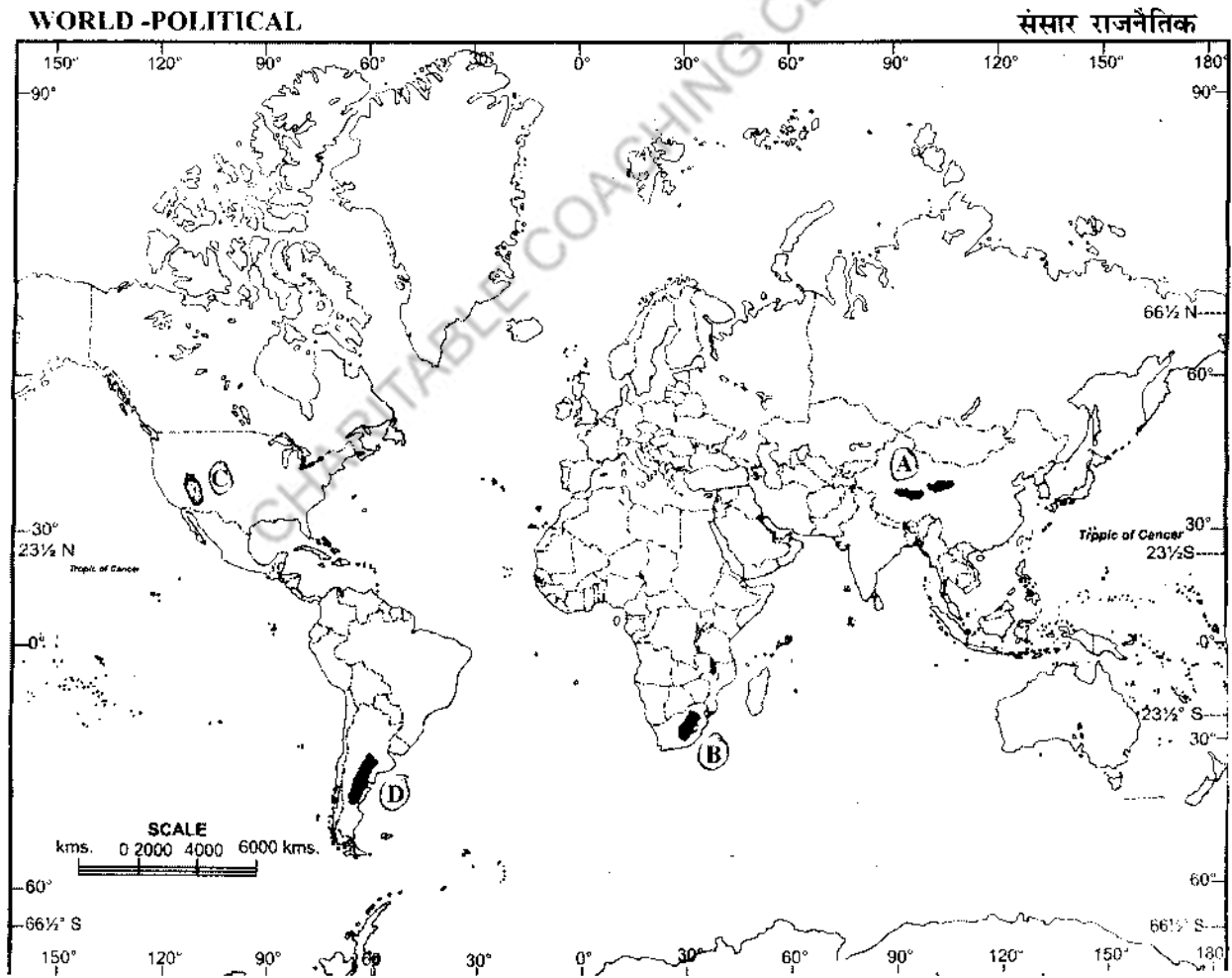


19 The following four geographical features are marked by (A), (B), (C) and (D) on the given Political outline map of the world. Identify these features with the help of the following information and write their correct names in your answer-book. 1×4=4

- | | |
|--------------------|------------------|
| (A) Mountain Range | (B) Lava Plateau |
| (C) Desert | (D) Grasslands |

दिए गए संसार के राजनैतिक रेखा मानचित्र में चार भौगोलिक लक्षणों को (A), (B), (C) और (D) द्वारा दिखाया गया है। इन लक्षणों को नीचे दी गई जानकारी की सहायता से पहचानिए और उनके सही नाम अपनी उत्तर-पुस्तिका में लिखिए :

- | | |
|------------------|----------------|
| (A) पर्वत श्रेणी | (B) लावा पठार |
| (C) मरुस्थल | (D) घासभूमियाँ |



20 The following four geographical features are marked by (A), (B), (C) and (D) on the given Political outline map of India. Identify these features with the help of the following information and write their correct names in your answer-book. 1×4=4

(A) Mountain Range

(B) River

(C) Type of soil

(D) Petroleum producing areas

दिए गए भारत के राजनैतिक रेखा मानचित्र में चार भौगोलिक लक्षणों को (A), (B), (C) और (D) द्वारा दिखाया गया है। इन लक्षणों को नीचे दी गई जानकारी की सहायता से पहचानिए और उनके सही नाम अपनी उत्तर-पुस्तिका में लिखिए :

(A) पर्वत श्रेणी

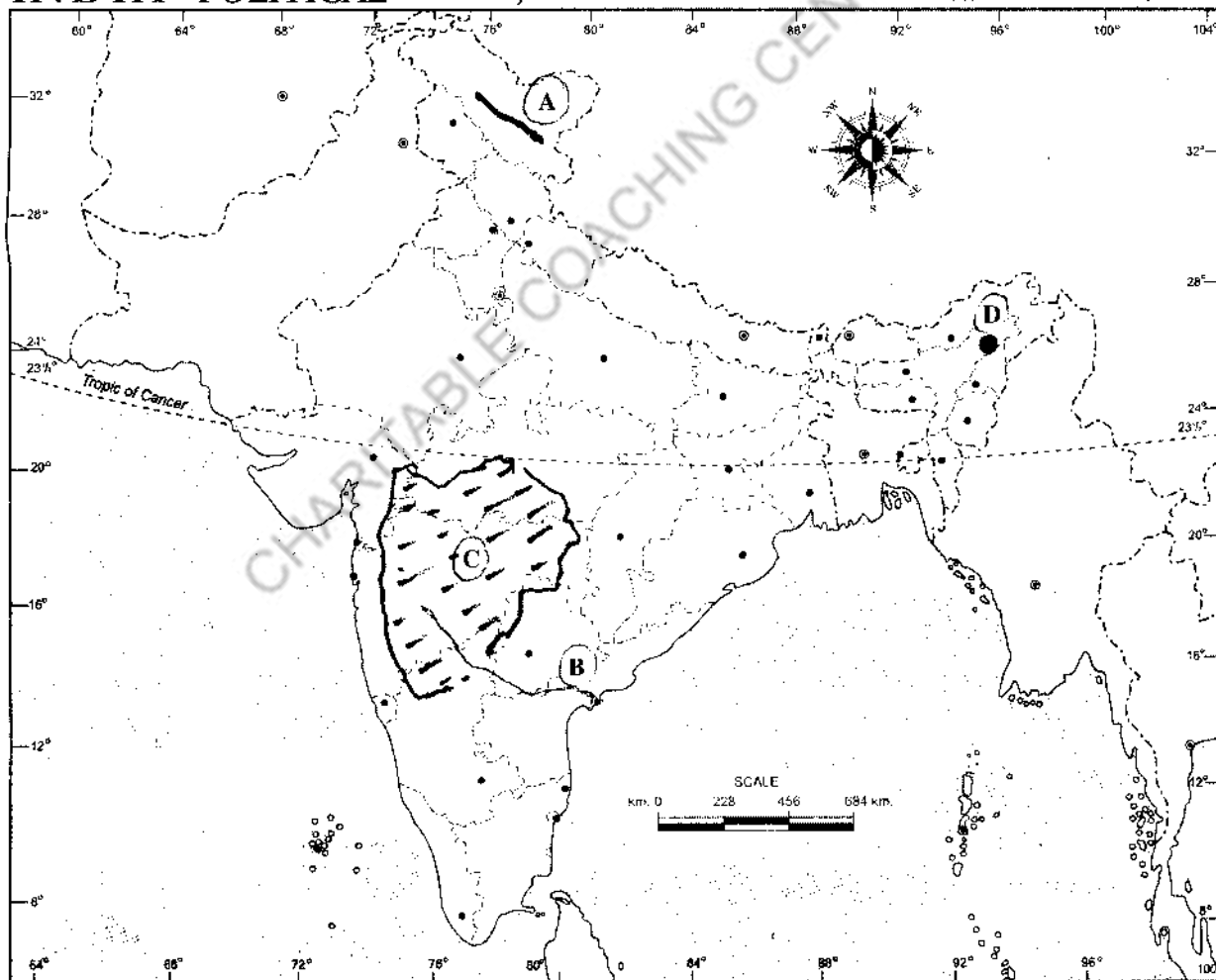
(B) नदी

(C) मृदा का प्रकार

(D) पेट्रोलियम उत्पादक क्षेत्र

INDIA - POLITICAL AND ADJACENT COUNTRIES

भारत-राजनैतिक और पड़ोसी देश



SECTION – B

खण्ड – ब

OPTION – I

विकल्प – I

(Local Area Planning)

(स्थानीय क्षेत्र नियोजन)

- 21** Explain any two merits of median. **1×2=2**
मध्यिका के किन्हीं दो गुणों को स्पष्ट कीजिए।
- 22** Mention four tools that help in data collection. $\frac{1}{2} \times 4 = 2$
आंकड़ों को एकत्रित करने में सहायक चार उपकरणों का उल्लेख कीजिए।
- 23** Suggest four measures for the slum areas development in different cities of India. **1×4=4**
भारत के विभिन्न नगरों में मलिन बस्ती क्षेत्रों के विकास के लिए चार उपाय सुझाइए।
- 24** Describe in brief amenities and social facilities available in Akbarpur village of Banda district. **1×4=4**
बांदा जिले के अकबरपुर गाँव में उपलब्ध सुख साधन और सामाजिक सुविधाओं का संक्षेप में वर्णन कीजिए।



OPTION – II

विकल्प – II

(Geography of Tourism in India)

(भारत में पर्यटन भूगोल)

- 21 Explain any two facilities provided by motels to the tourists. $1 \times 2 = 2$

मोटल्स द्वारा पर्यटकों को उपलब्ध कराने वाली किन्हीं दो सुविधाओं को स्पष्ट कीजिए।

- 22 Mention any four factors responsible for regional climatic variations in India. $\frac{1}{2} \times 4 = 2$

भारत में प्रादेशिक जलवायविक भिन्नताओं के लिए उत्तरदायी किन्हीं चार कारकों का उल्लेख कीजिए।

- 23 Explain any four effects of mass tourism on local economy in India. $1 \times 4 = 4$

भारत में जन पर्यटन द्वारा स्थानीय अर्थव्यवस्था पर पड़ने वाले किन्हीं चार प्रभावों की व्याख्या कीजिए।

- 24 How does tour operator help in promoting tourism? Give four points. $1 \times 4 = 4$

टूर ऑपरेटर पर्यटन को बढ़ावा देने में किस प्रकार सहायता करते हैं? चार बिन्दु दीजिए।

